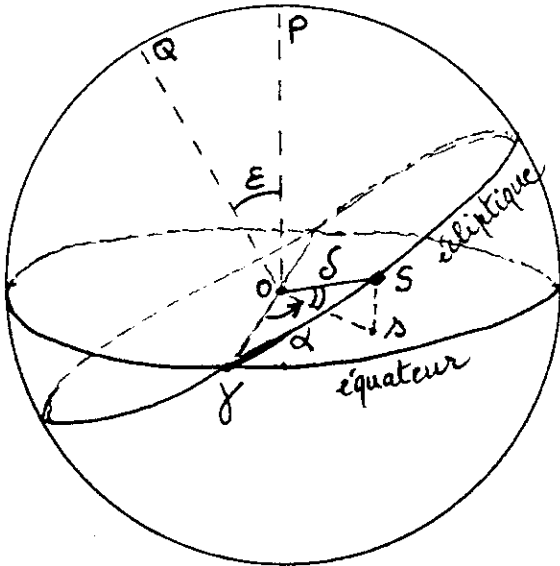


DESSINE MOI L'ECLIPTIQUE !

1. Le Soleil et la Terre:



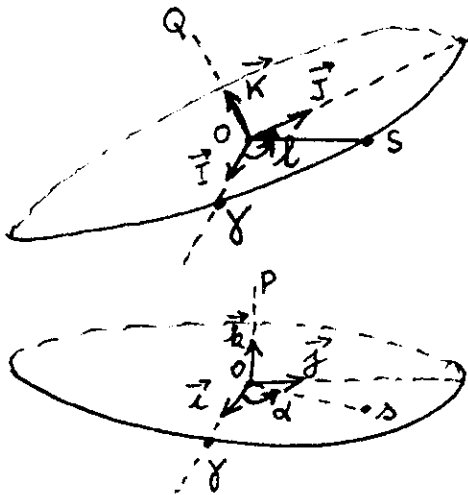
Sur la sphère céleste, le Soleil semble faire un tour complet autour de la Terre placée en O pendant un an. La trajectoire apparente annuelle du centre S du Soleil est l'écliptique.

Celui-ci est incliné d'un angle ϵ sur l'équateur.

P et Q sont les pôles nord de ces deux grands cercles; ainsi $\widehat{POQ} = \epsilon$.

Si S est la position du Soleil à un instant donné, s est sa projection orthogonale sur l'équateur.

La déclinaison de S à cet instant est $\widehat{SOs} = \delta$ et son ascension droite $\widehat{\gamma Os} = \alpha$.



Dans le plan de l'écliptique la position de S est définie par sa longitude géocentrique: $\widehat{\gamma OS} = l$

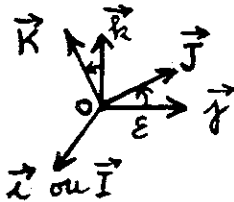
Exprimons les coordonnées de S dans le repère orthonormé $O, \vec{I}, \vec{J}, \vec{K}$

$$\vec{OS} = \cos l \cdot \vec{I} + \sin l \cdot \vec{J} \quad (1)$$

Faisons de même dans le repère $O, \vec{i}, \vec{j}, \vec{k}$ lié à l'équateur:

$$\vec{OS} = \cos \delta \cdot \cos \alpha \vec{i} + \cos \delta \cdot \sin \alpha \vec{j} + \sin \delta \vec{k} \quad (2)$$

2. Le repère a tourné:



On remarquera que le repère écliptique se déduit du repère équatorial par une rotation autour de la droite Oy, l'angle étant ϵ ;

ainsi $\vec{I} = \vec{i}$ et $\vec{J} = \cos \epsilon \cdot \vec{j} + \sin \epsilon \cdot \vec{k}$

et en remplaçant dans (1) on obtient

$$\vec{OS} = \cos l \cdot \vec{i} + \sin l \cdot (\cos \epsilon \vec{j} + \sin \epsilon \vec{k})$$

et en identifiant avec (2) on en déduit:

$$\begin{cases} \cos l = \cos \delta \cdot \cos \alpha \\ \sin l \cdot \cos \epsilon = \cos \delta \cdot \sin \alpha \\ \sin l \cdot \sin \epsilon = \sin \delta \end{cases} \Rightarrow \begin{cases} \sin \delta = \sin l \cdot \sin \epsilon \\ \tan \alpha = \tan l \cdot \cos \epsilon \end{cases}$$

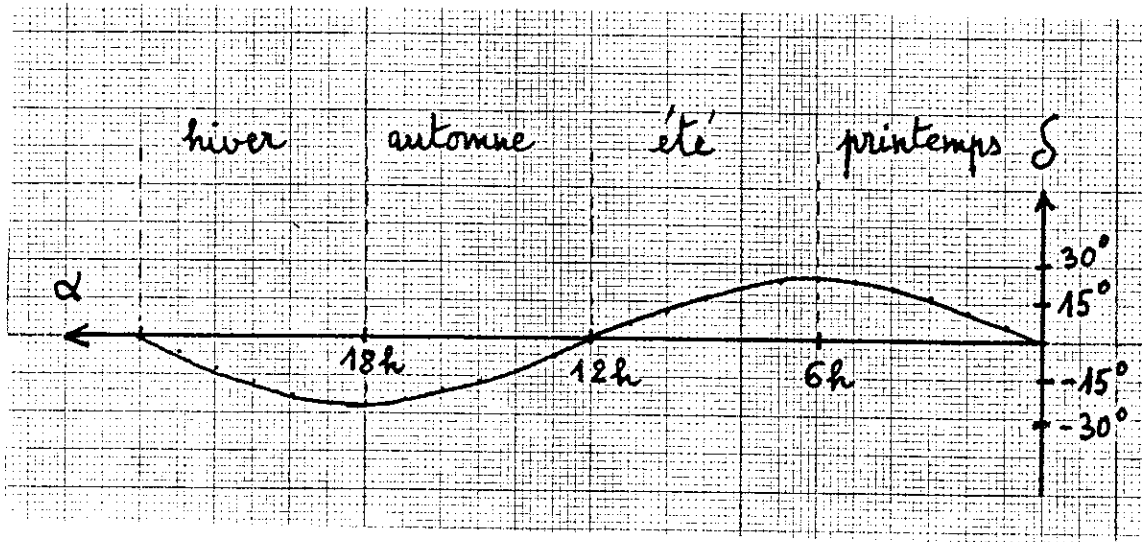
en éliminant l on trouve finalement:

$$\sin^2 \delta = \frac{\sin^2 \epsilon \sin^2 \alpha}{1 - \sin^2 \epsilon \cos^2 \alpha} \quad \text{avec } \epsilon = 23;44^\circ$$

Il suffit de faire les calculs pour un quart de tour de S (vive le printemps!) en se rappelant que 15° correspondent à 1 heure pour α . Les autres valeurs s'obtiennent par symétrie.

α	0	30m	1h	1h30	2h	2h30	3h	3h30	4h	4h30
δ	0	3°14'	6°24'	9°25'	12°14'	14°47'	17°03'	18°59'	20°35'	21°50'
α	5h	5h30	6h							
δ	22°43'	23°15'	23°26'							

3. Le dessin:



Jean-Paul ROSENSTIEHL
Club Astro Université Le Mans

STAGE "ASTRONOMIE: DECOUVERTE DU CIEL"

Ce stage est organisé à l'Université Paris-Sud, centre d'Orsay le mercredi après-midi de 14 h à 17 h (12 séances consécutives à partir du 7 octobre 1987). Il s'adresse à tous les enseignants et animateurs scientifiques. Il comporte des conférences, de nature historique, des travaux sur documents d'observation (photos, spectres) et des ateliers consacrés à la construction d'instruments simples ou de maquettes. Des séances d'observation astronomique au moyen du stellarium "starlab" sont également programmées.

Ce stage, similaire dans ses grandes lignes à celui de l'année 1986-1987 sera encadré par l'équipe d'Orsay: L. Bottinelli, J. Dupré, M. Gerbaldi et L. Gouguenheim et des enseignants (M. Bobin, A. Dargencourt, B. Sandré et G. Walusinski).

Pour renseignement complémentaire et inscription, s'adresser à:

L. Gouguenheim
Labo d'Astronomie Bât. 470
91405 ORSAY CEDEX